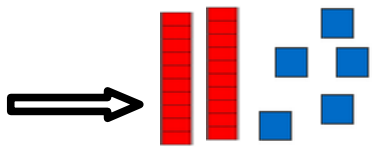
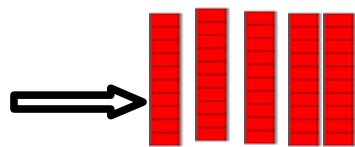
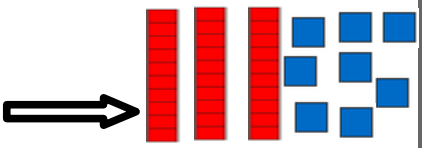
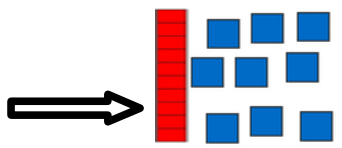
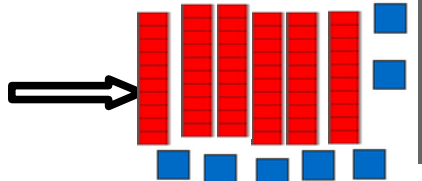
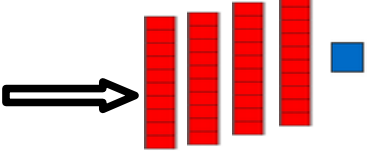


## Corrections plan de travail lundi 6 avril mathématiques

### Numération :

Représente chaque nombre avec des dizaines et des unités, comme dans l'exemple.

25 → 	50 → 
38 → 	19 → 
67 → 	41 → 

### Calculs :

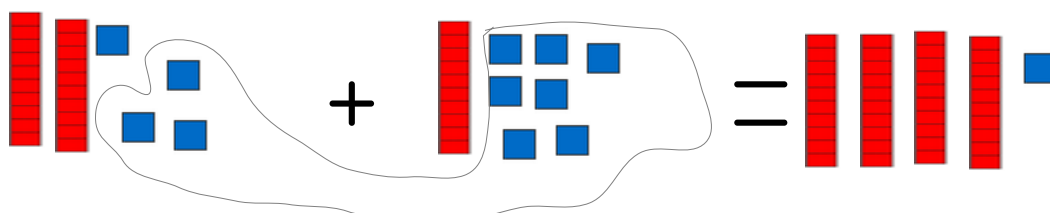
**Calcule** les additions et les soustractions le plus vite possible :

$7 + 7 = 14$ $5 - 1 = 4$ $30 + 7 = 23$ $12 - 1 = 11$ $50 + 2 = 52$	$10 + 30 = 40$ $12 + 10 = 22$ $9 - 3 = 6$ $15 - 5 = 10$ $23 - 3 = 20$
--	---

### Résolution de problèmes :

Dans le jardin, Manon a trouvé 24 insectes différents et Lucie en a trouvé 17.

**Combien Manon et Lucie ont-elles trouvé d'insectes ?**



41	
24	17

Lucie et Manon ont trouvé 41 insectes.