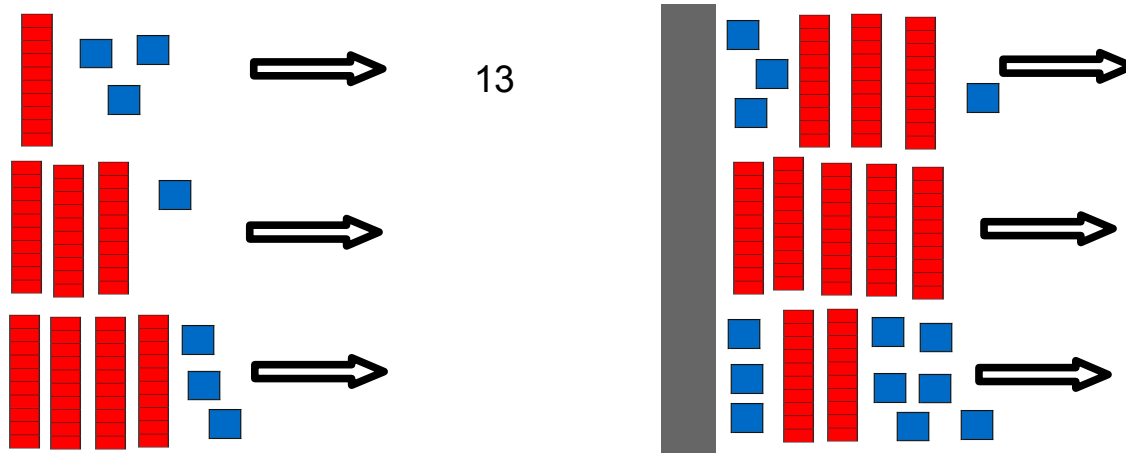


Plan de travail jeudi 9 avril mathématiques

Numération :

Recopie les dizaines et les unités, écris les nombres.

Ecris ces nombres en chiffres, comme dans l'exemple :



Envoyer la photo du travail à la maitresse.



Calcul :

Calcule les soustractions :

$8 - 1 = \dots$	$13 - 1 = \dots$
$15 - 2 = \dots$	$16 - 3 = \dots$
$7 - 2 = \dots$	$18 - 1 = \dots$
$19 - 2 = \dots$	$13 - 3 = \dots$



Envoyer la photo du travail à la maitresse.



Résolution de problèmes :

Dans le sac de courses, il y a 5 bananes, 6 oranges et 10 pommes.

Combien y a-t-il de fruits ?



Envoyer la photo du travail à la maitresse avec une phrase réponse.