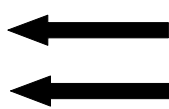
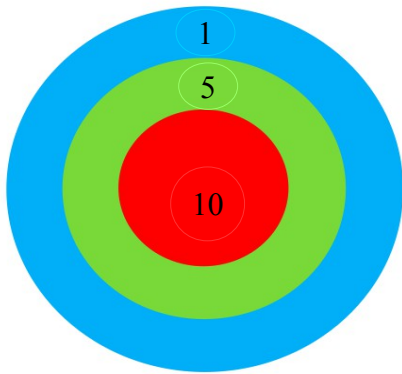


Plan de travail jeudi 26 mars mathématiques

La cible



Où dois-tu lancer les 2 flèches pour marquer 15 points ?

Envoye la photo du travail à la maitresse.



Numération et calculs

Recopie l'exercice sur une feuille.

Compare les nombres avec < ou > :

17 ... 14

27 ... 31

24 ... 19

37 ... 49

Envoye la photo du travail à la maitresse.

Calcule :


$$4 - 1 = \dots \quad 7 - 1 = \dots \quad 13 - 1 = \dots$$

$$5 - 2 = \dots \quad 9 - 2 = \dots \quad 14 - 2 = \dots$$



Le porte monnaie

51€



Dessine les billets et les pièces de ton porte monnaie que tu vas utiliser pour acheter ce jeu de société à 51€.



Envoye la photo du travail à la maitresse.

